

تم تحميل وعرض المادة من

موقع كتبي

المدرسية اونلاين



www.ktbby.com

موقع كتبي يعرض لكم الكتب الدراسية الطبعة الجديدة
وحلولها، توزيع مناهج، تحضير، أوراق عمل، عروض
بوربوينت، نماذج إختبارات بشكل مباشر PDF

جميع الحقوق محفوظة للقائمين على العمل

مادة : العلوم

١/ أختار الإجابة الصحيحة :

*الطقس هو :

أ/ حالة الجو

ب/ حالة الجو في وقت ومكان محدد

ج/ حالة الجو في وقت محدد فقط

*جميع مايلي من عناصر الطقس ماعدا :

أ/ الرياح

ب/البرد

ج/ درجة الحرارة

د/ الضغط الجوي

٢/ أصل من العمود (أ) ما يناسبه من العمود (ب)

ب	أ
احتمالية هطول عواصف هطول أمطار أو ثلوج	الغيوم الطبقيّة الغيوم الريشية الغيوم الركامية الداكنة

٣/ أصف حالة الماء من خلال تتبع الصورة التالية :



٤/ أختار الإجابة الصحيحة :

المناخ هو :

أ/ حالة الطقس في مكان معين .

ب/حالة الطقس في مكان معين على مدى فترة زمنية قصيرة .

ج/ حالة الطقس في مكان معين على مدى فترة زمنية طويلة .

ب/ أحدد المدن التالية في الجدول الممثل أمامك أكثر برودة :

المدينة	الارتفاع (م)
س	١٥٣٠
ص	٩٣٧٢٠
ع	١٨٢٠١٠
ل	٣٣٠

أ-

ب-

ج-

د-

٥/ أعدد العوامل المؤثرة في المناخ ؟

٦/ أكمل الفراغات بكلمات مناسبة :

أ/ المادة هي أي شيء له ويشغل حيز من الفراغ .

ب/ الحالة السائلة لها حجم ثابت وشكل

ج/ الحالة الصلبة لها وشكل ثابت

د/ الحالة ليس لها حجم أو شكل ثابت


٧/ أعدد الأجسام الموصلة للحرارة في اللوحة التي أمامك :

أ /

ب /

ج /

د /



٨/ أضع علامة (√) وعلامة (x) أمام العبارات التالية :

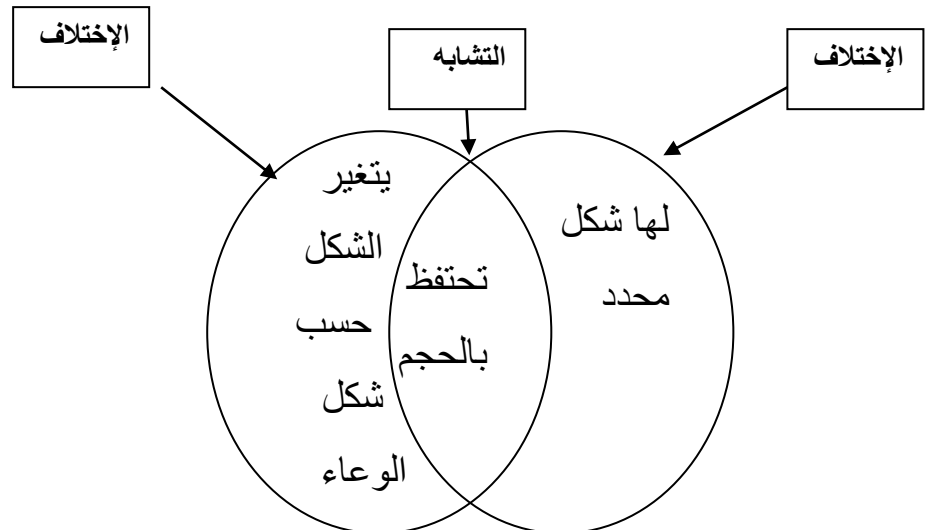
١/ التغير الفيزيائي تغير في مظهر الجسم وشكله ()

٢/ التغير الفيزيائي لا يمكن مزج المواد لتكوين المخاليط والمحاليل ()

٣/ التغير الكيميائي تغير لا ينتج عنه مواد جديدة ()

٤/ من التغيرات الكيميائية صدأ الحديد ()

٩/ كتبت أحلام أوجه الشبه وأوجه الاختلاف لمادتين كما يلي :



*أي مما يلي يمكن أن تكون هاتين المادتين ؟

أ/ زيت ، ملح ب/ هواء ، ماء ج/ خبز ، عصير د/ غاز ، ثلج

١٠/ أختار الإجابة الصحيحة :

*كل مما يلي أمثلة على التغيرات الفيزيائية التي تطرأ على الورقة عدا :

أ/ الاحتراق ب/ التقطيع ج/ الثني د/ التمزيق

*جميع مايلي من الصفات المميزة للتغير الكيميائي عدا :

أ/ تغير تركيب المادة ب/ فقدان المادة لصفاتها ج/ إنتاج مواد جديدة د/ عود المادة لأصلها

*سقطت مجموعة من الدبابيس على دقيق الذرة واختلطت به أي مما يلي يساعد على فصل مكونات هذا المخلوط ؟

أ/ قطيب مغناطيس ب/ موقد لتسخين ج/ قمع مخروطي د/ ورقة ترشيح

*عند تعفن الفواكه لايمكن أكلها بسبب تغير :

أ/ شكلها ب/ لونها ج/ حجمها د/ تركيبها الكيميائي

١١/ أختار الإجابة الصحيحة :

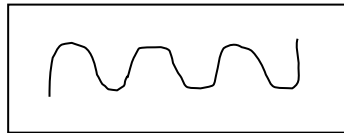
*الموقع هو :

أ/ مكان الجسم مقارنة بمكان وجود جسم آخر

ب/ مكان الجسم مقارنة بالجسم نفسه

ج/ جميع ماسبق


ب- أحدد نوع الحركة من خلال الصورة :



حركة _____



حركة _____



حركة _____



حركة _____

- ١٢/ أضع علامة (√) أو علامة (x) أمام العبارات التالية :
- ١/ من أنواع التلامس ركل الكرة ()
- ٢/ من أنواع القوى الغير متلامسة القوى المغناطيسية ()
- ٣/ من أنواع قوى التلامس قوى الجاذبية ()
- ٤/ القوى التي تؤثر في الجسم قوى التلامس والقوى الغير متلامسة ()
- ٥/ من قوى التلامس قوة الاحتكاك ()
- ١٣/ لا يستطيع رواد الفضاء التحدث معًا فوق سطح القمر ما السبب فسري إجابتك ؟
- ١٤/ أذكرني طرقًا للمحافظة على الأذن ؟
- ١٥/ أكتب الجزء الذي يهتز عند وصول الصوت للأذن ؟



- ١٦/ أكتب مفهومًا لمعنى الضوء ؟
- ١٧/ أصنف الأجسام من حيث نفاذيتها للضوء
زجاج / بلاستيك / خشب / جدار / الهواء